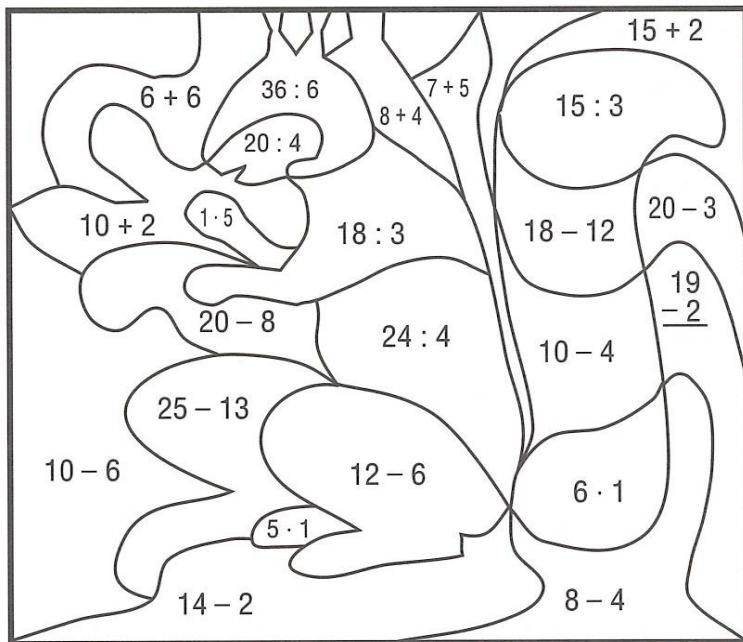


Kl. V. Lekcja 15-18.06.2020

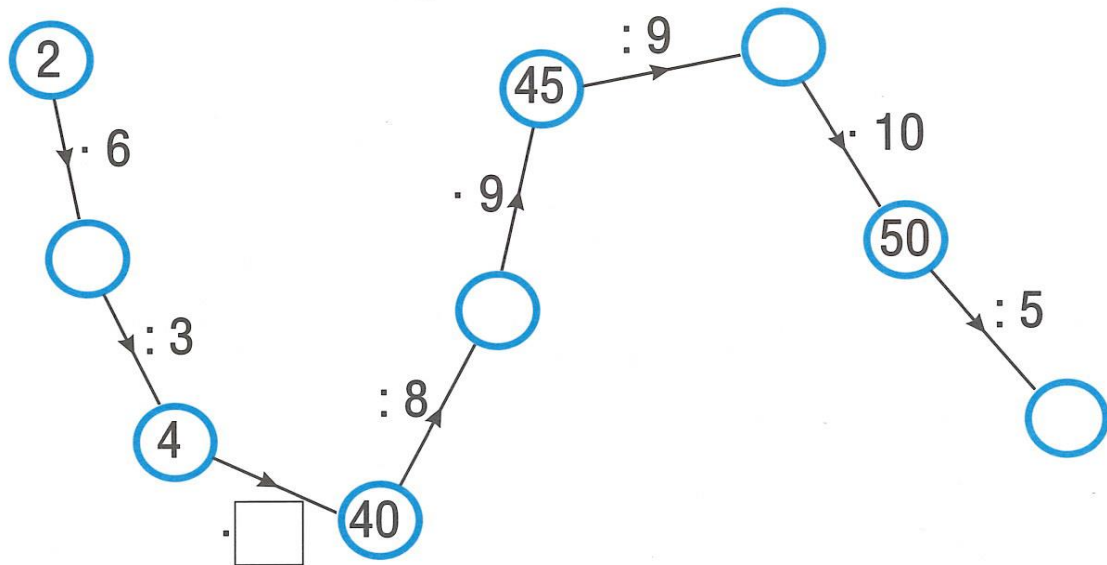
Temat: Mnożenie i dzielenie/Figury geometryczne- ćwiczenia utrwalające.

1. Wykonaj działania. Pola z wynikami pokoloruj:



- 17 - na czerwono,
- 4 - na żółto,
- 12 - na zielono,
- 25 - na pomarańczowo,
- 6 - na ciemno brązowo,
- 5 - na jasno brązowo.

2. Uzupełnij łańcuszek wyników działań.



3. W szafce na 3 półkach stoi 27 książek. Na każdej półce jest ich tyle samo.
Ile książek jest na jednej półce?

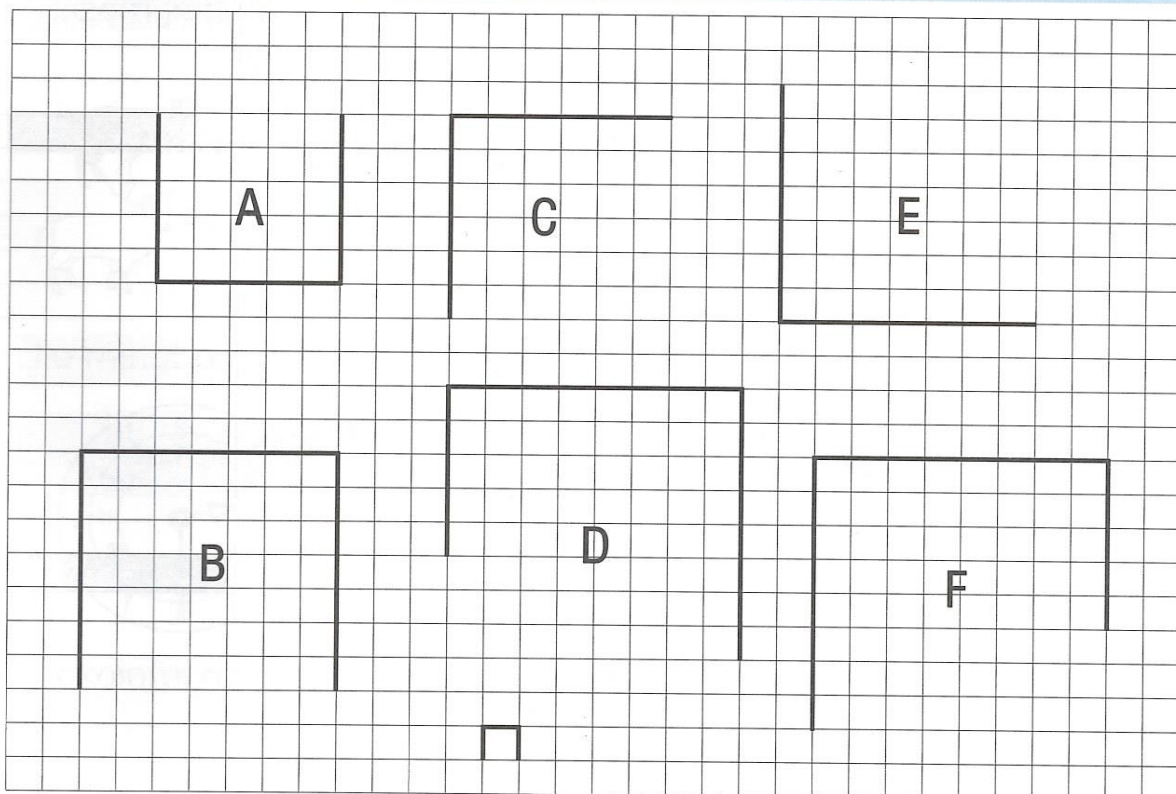
Obliczenie:

Odpowiedź:

Uwagi dla rodzica lub opiekuna.

Zapraszam do kontaktu telefonicznego pod numerem 509 307 704 – Danuta Demianiuk lub mailowego danutademianiuk.sosw@o2.pl Kartę pracy należy przepisać do zeszytu lub uzupełnić i zachować do sprawdzenia.

1. Dokończ rysunki kwadratów.



2. Ile krótek wynosi obwód kolejnych kwadratów?

A $4 \cdot 5 = \square$ C $\square \cdot \square = \square$ E $\square \cdot \square = \square$

B $\square \cdot \square = \square$ D $\square \cdot \square = \square$ F $\square \cdot \square = \square$

3. Z ilu małych kwadracików składają się kolejne kwadraty?

A $\square \cdot \square = \square$ C $\square \cdot \square = \square$ E $\square \cdot \square = \square$

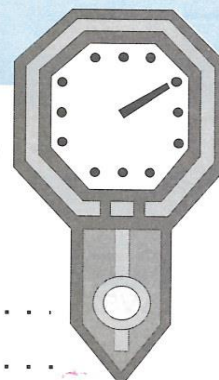
B $7 \cdot 7 = \square$ D $\square \cdot \square = \square$ F $\square \cdot \square = \square$

4. Odczytaj podane godziny i zapisz słownie.
Dorysuj odpowiednio wskazówki.

19⁴⁵



12¹⁰

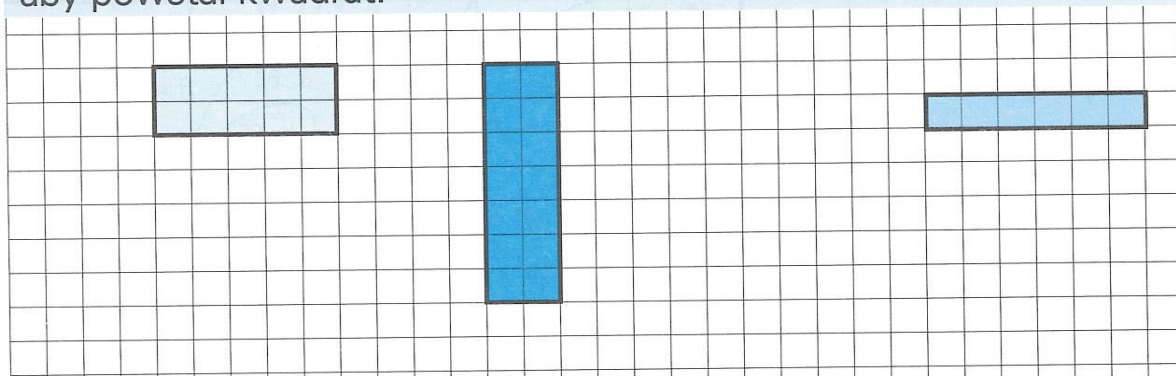


.....

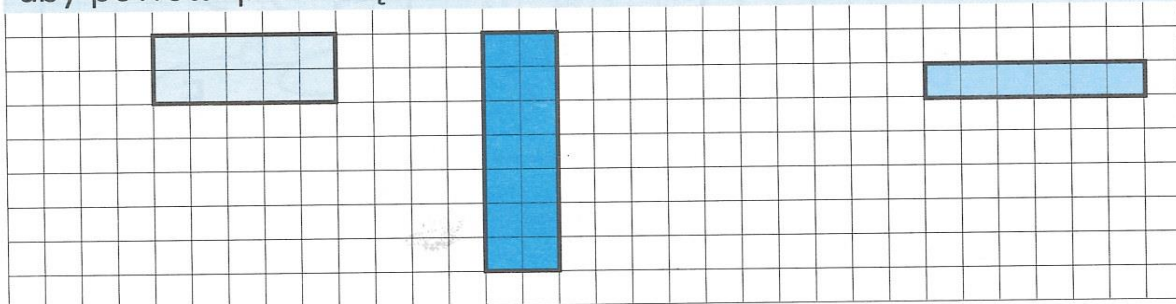
Uwagi dla rodzica lub opiekuna.

Zapraszam do kontaktu telefonicznego pod numerem 509 307 704 – Danuta Demianiuk lub mailowego danutademianiuk.sosw@o2.pl Kartę pracy należy przepisać do zeszytu lub uzupełnić i zachować do sprawdzenia.


1. Do każdego prostokąta dorysuj drugi prostokąt taki, aby powstał kwadrat.



2. Do każdego prostokąta dorysuj drugi prostokąt taki, aby powstał prostokąt.



3. Dokończ rysunki prostokątów używając ekiejki.



4. Uzupełnij opis prostokąta.

Prostokąt ma:

- 1) boki,
- 2) wierzchołki,
- 3) wszystkie kąty,
- 4) boki przeciwległe

Uwagi dla rodzica lub opiekuna.


Zapraszam do kontaktu telefonicznego pod numerem 509 307 704 – Danuta Demianiuk lub mailowego danutademianiuk.sosw@o2.pl Kartę pracy należy przepisać do zeszytu lub uzupełnić i zachować do sprawdzenia.

Kl. V. Lekcja 15-18.06.2020

Temat: Mnożenie i dzielenie/Figury geometryczne- ćwiczenia utrwalające.

1. Na hali pasie się dwa razy więcej białych owiec niż czarnych. Razem jest ich 96. Ile jest owiec białych, a ile czarnych?

Dokończ dzielenie owiec na trzy równe części.



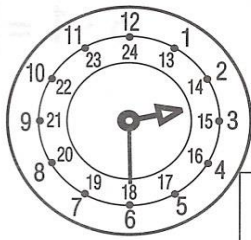
10 białych 10 białych
 10 białych 10 białych
 10 białych
 2 białe
 Białych jest

10 czarnych
 10 czarnych


 Czarnych jest

Razem
30
60
....
....

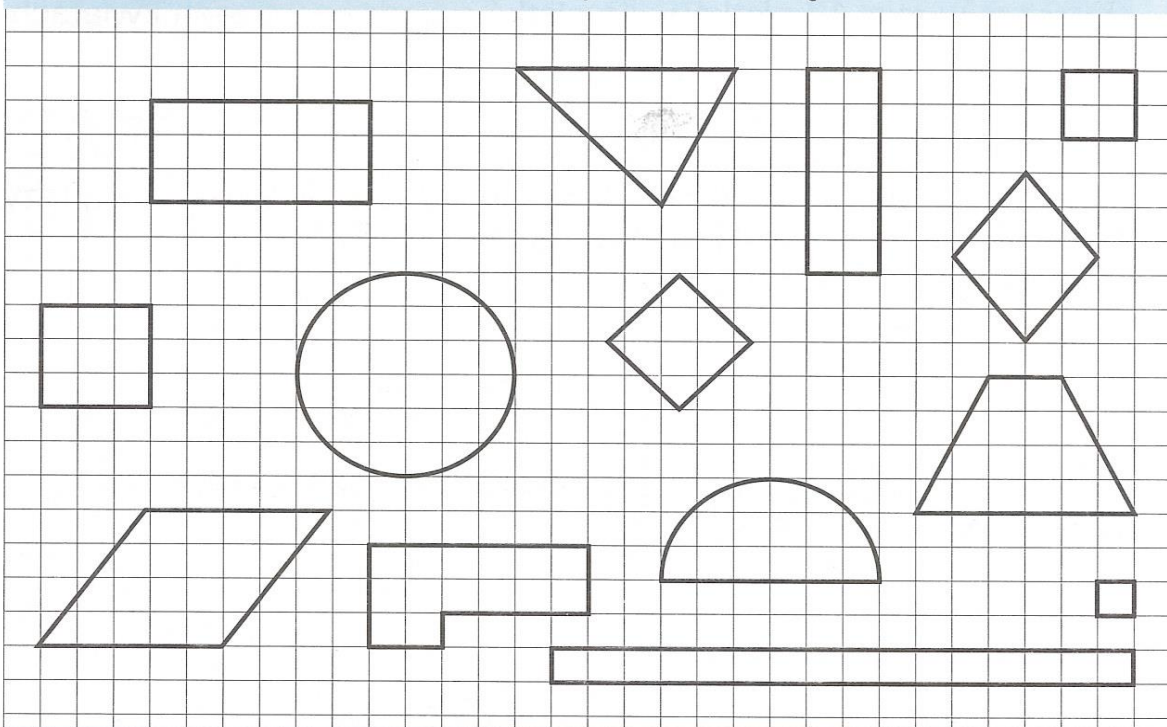
2. Ile minut po 14⁰⁰ wskazują zegarki.







3. Pokoloruj na czerwono prostokąty, które nie są kwadratami.



Pokoloruj na zielono prostokąty, które są kwadratami.

4. Otocz czerwonym kółeczkiem te liczby, które są większe od 37.

54 27 36 42 78 96 37

Uwagi dla rodzica lub opiekuna.

Zapraszam do kontaktu telefonicznego pod numerem 509 307 704 – Danuta Demianiuk lub mailowego danutademianiuk.sosw@o2.pl Kartę pracy należy przepisać do zeszytu lub uzupełnić i zachować do sprawdzenia.