

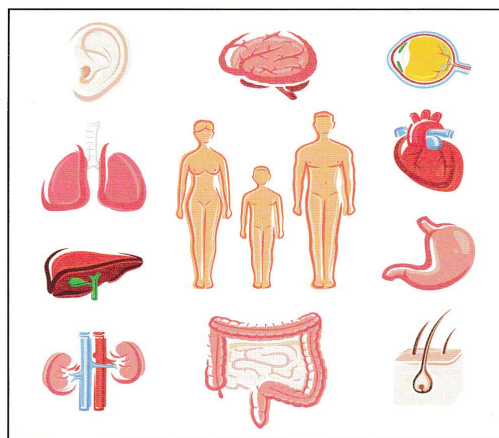
## Funkcjonowanie osobiste i społeczne klasa I SSPdP Lekcja I, II

### Temat: Budowa człowieka.

Data realizacji: 8.06.20r.

- Postaraj się przeczytać tekst. Jeśli masz trudności, poproś rodziców o pomoc.
- Wykonaj polecenia.

55



**TO JEST CZŁOWIEK. CZŁOWIEK  
POSIADA ZEWNĘTRZNE CZĘŚCI CIAŁA  
I WEWNĘTRZNE NARZĄDY. CZĘŚCI  
CIAŁA ZEWNĘTRZNE TO: GŁOWA, SZYJA,  
RĘCE, NOGI. NARZĄDY WEWNĘTRZNE  
TO: MÓZG, SERCE, PŁUCA, WĄTROBA,  
NERKI. KAŻDY NARZĄD PEŁNI SWOJĄ  
FUNKCJĘ NIEZBĘDNĄ DO ŻYCIA  
CZŁOWIEKA. SERCE POMPUJE KREW.  
NERKI OCZYSZCZAJĄ NASZ ORGANIZM.  
ŻOŁĄDEK TRAWI JEDZENIE, A DZIĘKI  
PŁUCOM ODDYCHAMY. MÓZG TO NASZA  
WIEDZA, EMOCJE I UCZUCIA.**

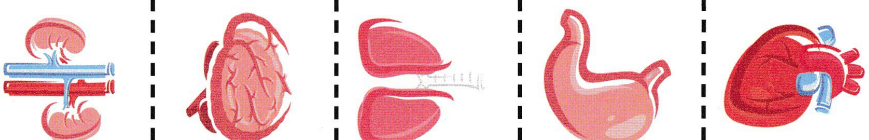
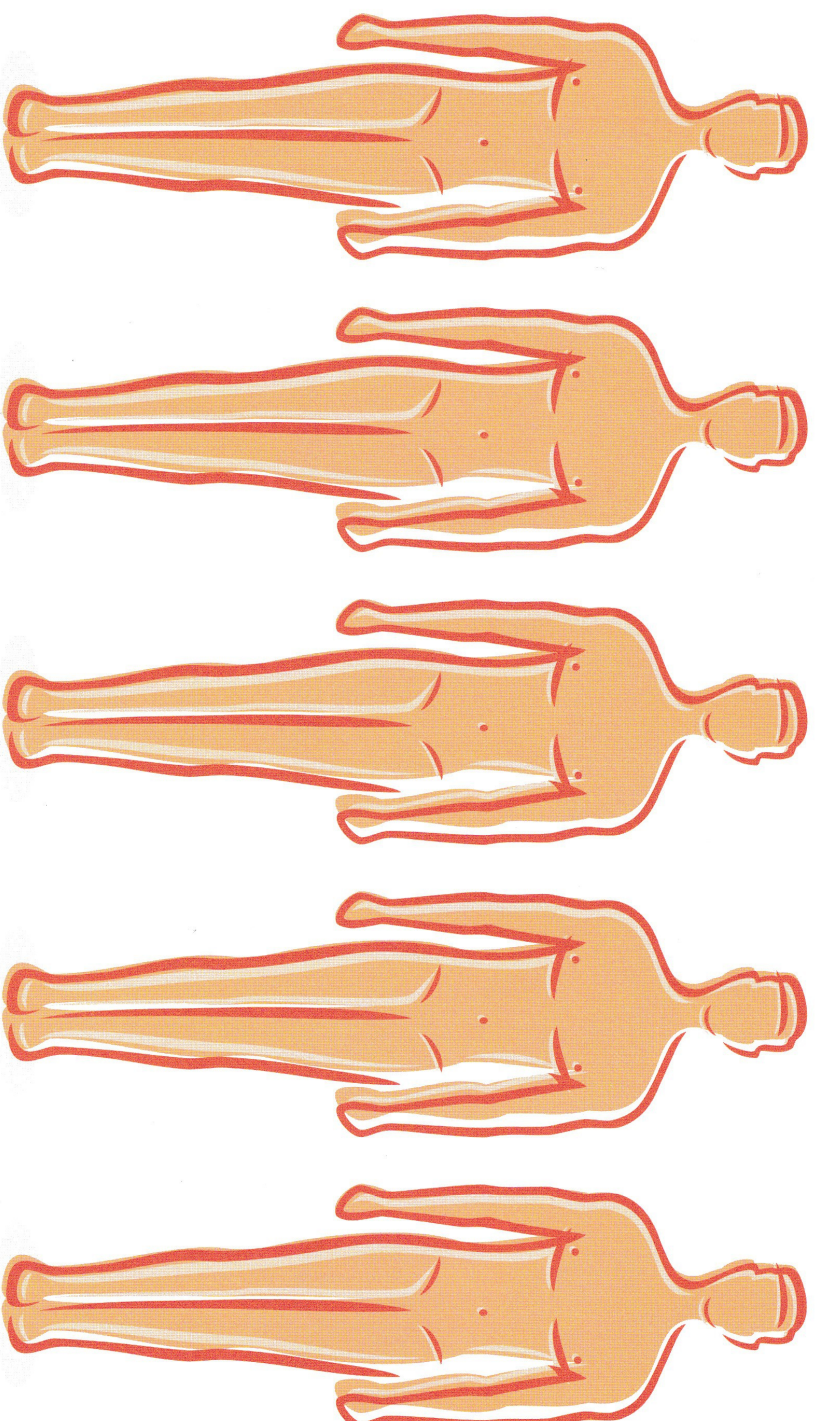
Wymień zewnętrzne części ciała człowieka.

Wymień narządy wewnętrzne.

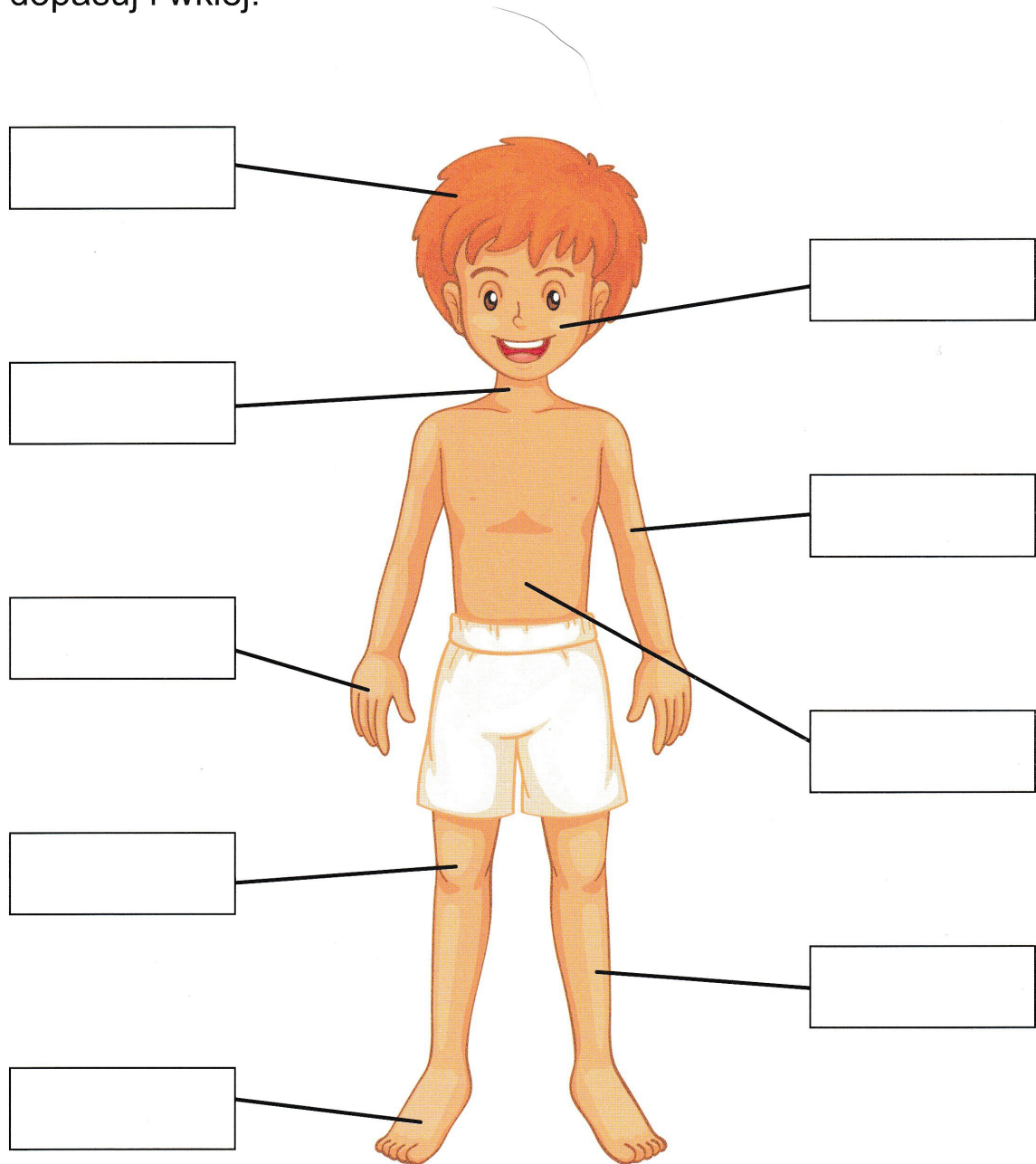
Pokaż na koleżce zewnętrzne części ciała i je nazwij.

Powiedz, które części ciała tworzą pary.

Wytnij narządy wewnętrzne człowieka. Nazwij je i przyklej według instrukcji.  
**Serce przyklej na pierwszej postaci od lewej. Żołądek przyklej na trzeciej postaci od lewej. Mózg przyklej na piątej postaci, płuca na drugiej, a nerki na czwartej.**



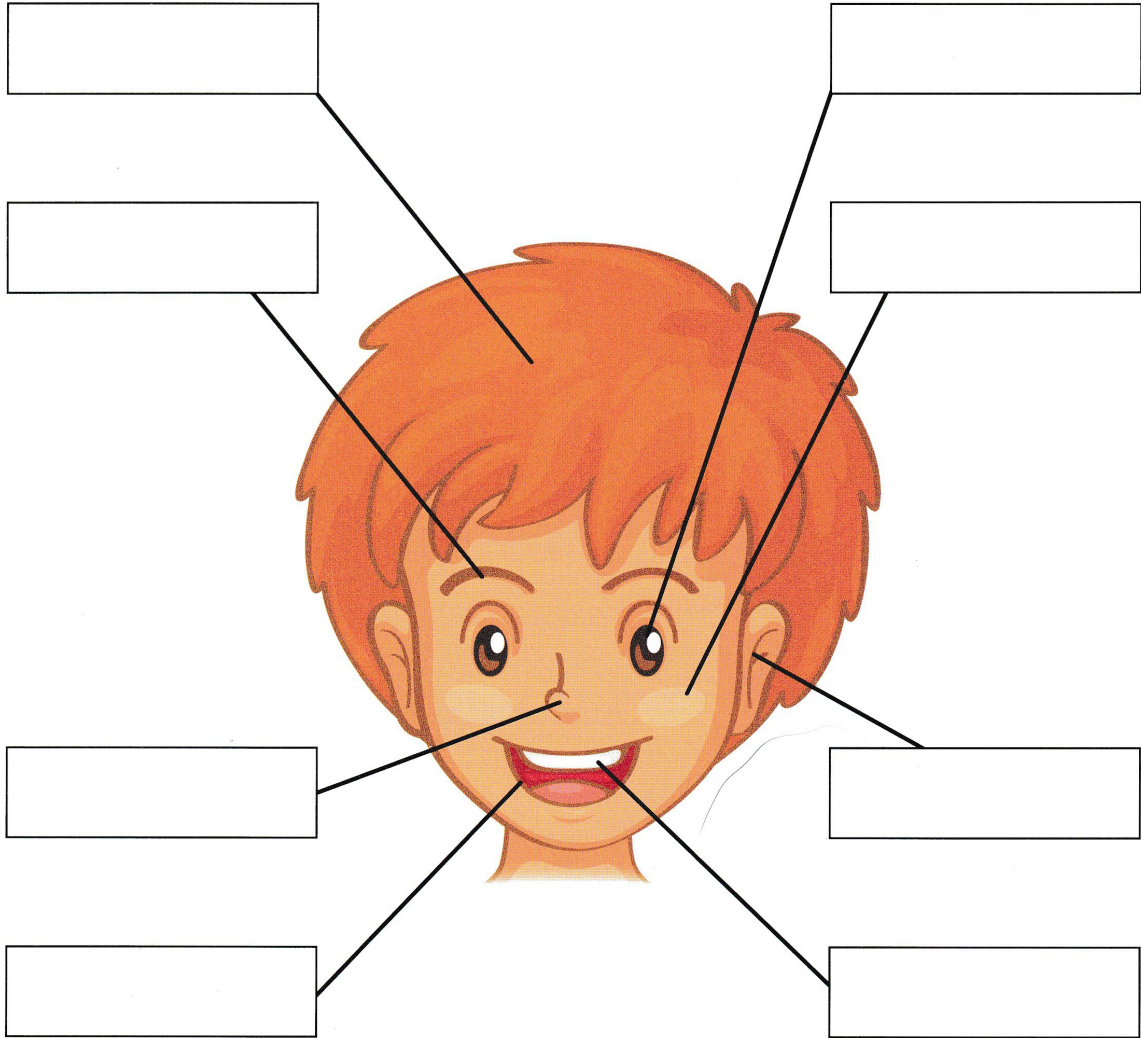
Nazwij części ciała zaznaczone na rysunku. Wytnij etykiety, dopasuj i wklej.



NOGA	STOPA	GŁOWA	KOLANO	DŁOŃ
SZYJA	RĘKA	TWARZ	BRZUCH	



Nazwij części twarzy. Wytnij etykiety, dopasuj i wklej.



NOS	BRWI	UCHO	OKO
WŁOSY	ZĘBY	POLICZEK	USTA



Wytnij, dopasuj etykiety. Ułóż w kolejności fazy rozwoju człowieka. Wklej do zeszytu i podpisz.



**PRZEDSZKOLAK**

**NIEMOWLĘ**

**STUDENT**

**UCZEŃ**

**STARZEC**


**DOROSŁY**

**Funkcjonowanie osobiste i społeczne klasa I SSPdP**  
**Lekcja I**

**Temat: Zmysły.**

Data realizacji: 9.06.20r.































59



**CZŁOWIEK POZNAJE ŚWIAT ZA POMOCĄ  
ZMYSŁÓW. ZMYSŁY TO: WZROK, SŁUCH,  
DOTYK, WĘCH, SMAK.  
NARZĄD WZROKU TO OKO, SŁUCHU  
UCHO, DOTYKU SKÓRA. NARZĄDEM  
WĘCHU JEST NOS, A SMAKU JĘZYK.**

Do czego człowiekowi służą zmysły?  
Wymień zmysły człowieka.  
Wymień narządy zmysłów.



Zaznacz w każdym rzędzie zmysł, którym poznajesz rzecz przedstawioną na zdjęciu.