



OBLICZENIA PIENIĘŻNE


1. Otocz pętlą tak, aby było razem 1 zł.




2. Otocz pętlą monety, tak aby było 2 zł.




3. Otocz pętlą monety tak, aby mieć 3 zł.




4. Pokoloruj monetę 5 zł. Otocz pętlą monety tak, aby mieć 5 zł.




5. Otocz pętlą monety tak, aby mieć 8 zł.




6. Zamaluj monety tak, aby mieć 9 zł.



7. Zbierz 10 zł. Pomaluj odpowiednie monety.



8. Otocz pętlą monety tak, aby zebrać 10 groszy.



9. Rozmień pieniądze na banknoty o jednakowych nominałach.



$$= \square + \square$$



$$= \square + \square + \square + \square$$



$$= \square + \square + \square + \square + \square + \square + \square$$



$$= \square + \square$$



$$= \square + \square + \square + \square$$

10. Oblicz ceny produktów.



Uzupełnij:

Czekolada kosztuje

Sok kosztuje

Mleko kosztuje