

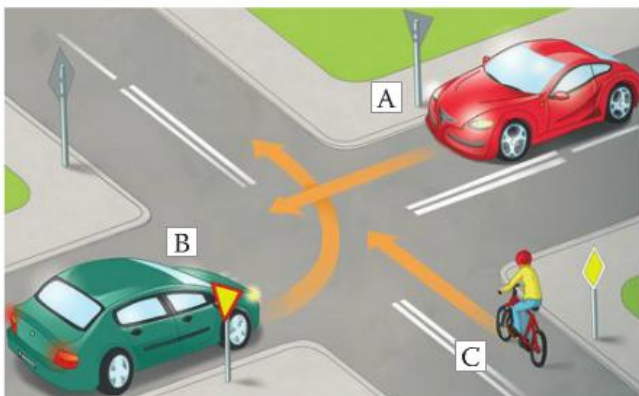
Zapoznaj się z materiałem lekcji.

## Skrzyżowania z drogą z pierwszeństwem przejazdu

Na większości skrzyżowań kolejność przejazdu regulują znaki. Informują kierującego o tym, że porusza się drogą z pierwszeństwem, ostrzegają o konieczności ustąpienia pierwszeństwa bądź zakazują wjazdu na skrzyżowanie bez wcześniejszego zatrzymania się. Dotyczą one również pojazdów szynowych. Jeżeli droga z pierwszeństwem nie jest wytyczona na wprost przez skrzyżowanie, pod znakami mogą znajdować się dodatkowe tabliczki wskazujące na jej przebieg.

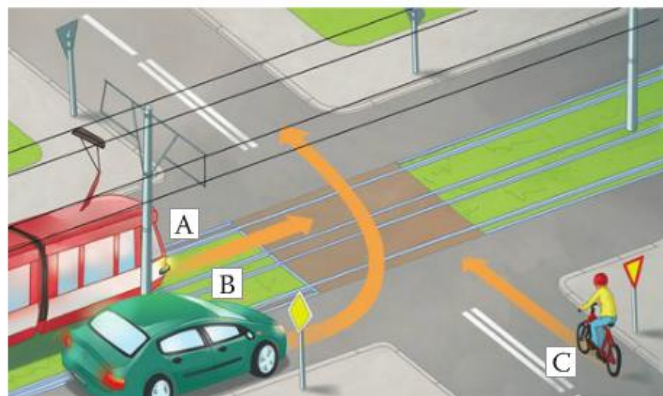
### ĆWICZENIE 3

Wskaż właściwe dokończenie każdego zdania.



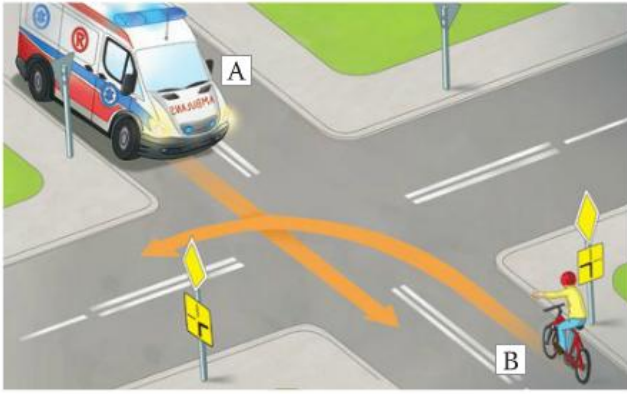
1. Pojazdy przejadą przez skrzyżowanie w kolejności:

- I. A, B, C.
- II. B, C, A.
- III. C, A, B.



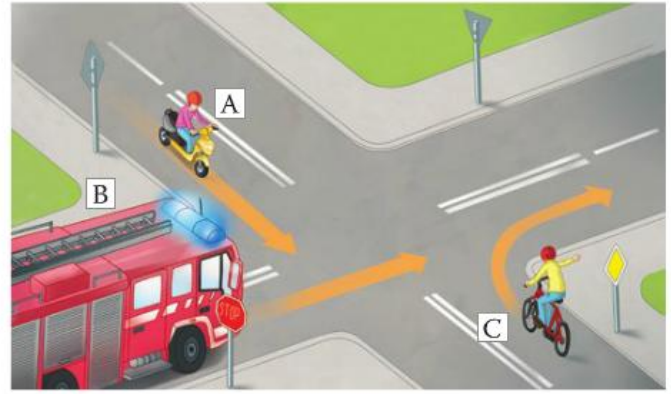
2. Pojazd A opuści skrzyżowanie jako

- I. pierwszy.
- II. drugi.
- III. trzeci.



3. Pojazd A

- I. musi ustąpić pierwszeństwa pojazdowi B.
- II. powinien skręcić w lewo.
- III. przejeżdża przez skrzyżowanie jako pierwszy.



4. Pierwszeństwo na skrzyżowaniu przysługuje pojazdowi

- I. A.
- II. C.
- III. B.

**Praca domowa**

Zapisz do zeszytu temat lekcji wraz z datą oraz wykonaj ćwiczenie 3.

Dokonania pracy ucznia, proszę udokumentować w formie zdjęcia, po czym proszę przesłać na adres email:

[karolkawiak.sosw@wp.pl](mailto:karolkawiak.sosw@wp.pl)

Podstawą oceniania będzie również prowadzenie zeszytu przedmiotowego ucznia.